

Opgave 6 – Brazilië: Ongelijkheid in Brazilië door de tijd heen

Bij deze opgave horen de bronnen 15 tot en met 17.

Gebruik bron 15.

In de periode van de zestiende eeuw tot het begin van de negentiende eeuw (1500 - 1800) werd de basis gelegd voor de huidige multiculturele samenleving in Brazilië.

- 2p **21** Beredeneer dat de basis voor de huidige multiculturele samenleving in Brazilië toen werd gelegd.

Rond 1900 groeide de export van onder andere suiker, koffie en rubber in Brazilië.

- 2p **22** Beredeneer dat door de groei van deze export de sociale ongelijkheid in Brazilië toenam.

Door industrialisering in de eerste helft van de twintigste eeuw (1900 - 1950) werden de sociaal-economische verschillen tussen stad en platteland groter. Ook binnen de stad groeide de ongelijkheid.

- 1p **23** Geef aan op welke manier deze ongelijkheid zichtbaar werd in de ruimtelijke opbouw van de stad.

Gebruik de bronnen 15 tot en met 17.

Hieronder staan twee uitspraken over de sociale ongelijkheid in Brazilië.

Uitspraak 1: in de meest gemestizeerde regio's is de sociaal-economische ongelijkheid in het algemeen het grootst.

Uitspraak 2: in de centrumgebieden van Brazilië wonen in het algemeen de meeste blanken en is de HDI het hoogst.

- 1p **24** Geef voor elke uitspraak aan of die juist of onjuist is.

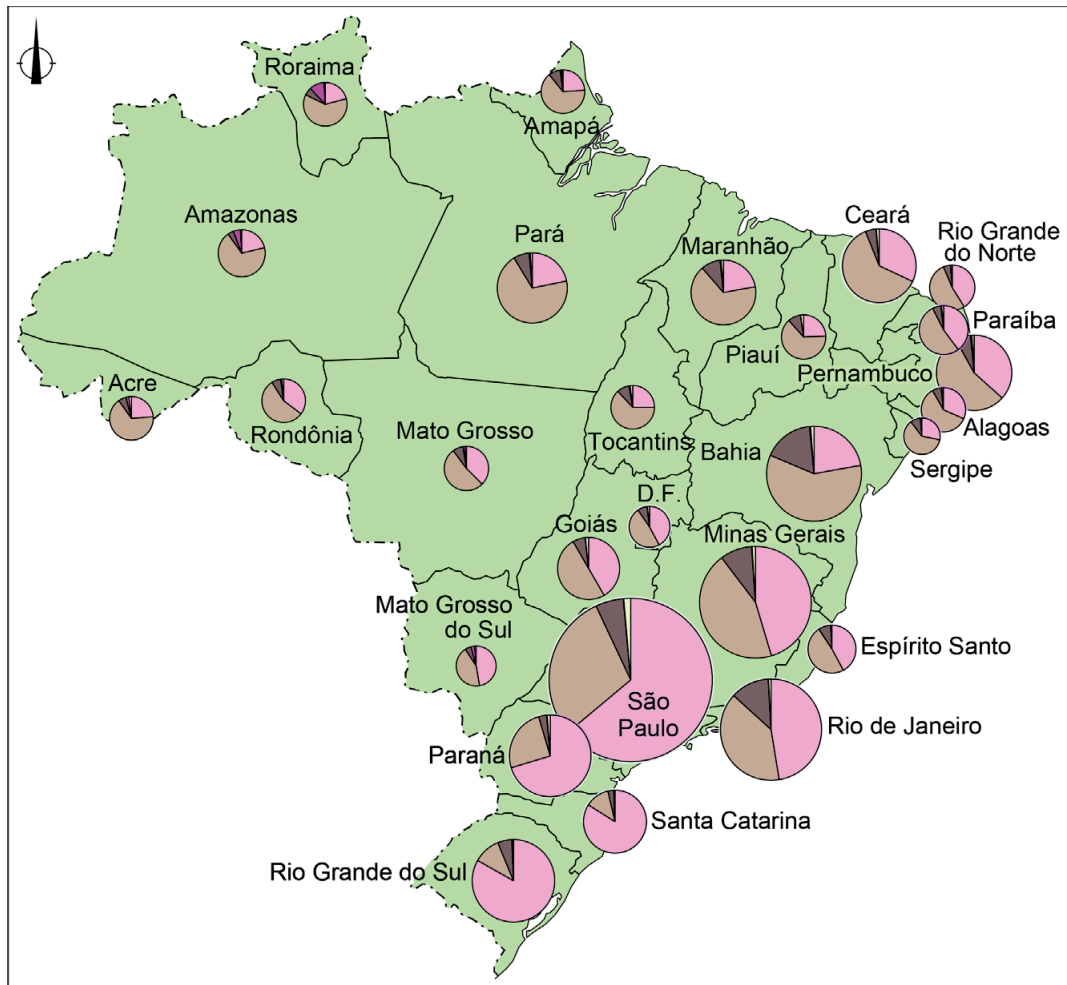
Stelling: de economie van Brazilië is gebaat bij een toename van de mondiale vraag naar grondstoffen.

- 2p **25** Geef een argument
- voor deze stelling;
 - tegen deze stelling.

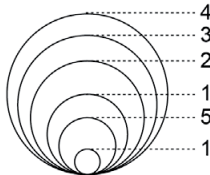
Opgave 6 – Brazilië: Ongelijkheid in Brazilië door de tijd heen

bron 15

Etnische samenstelling van de bevolking



Legenda:
bevolkingsaantal in miljoen inwoners, 2010



samenstelling van de bevolking



0 300 600 km

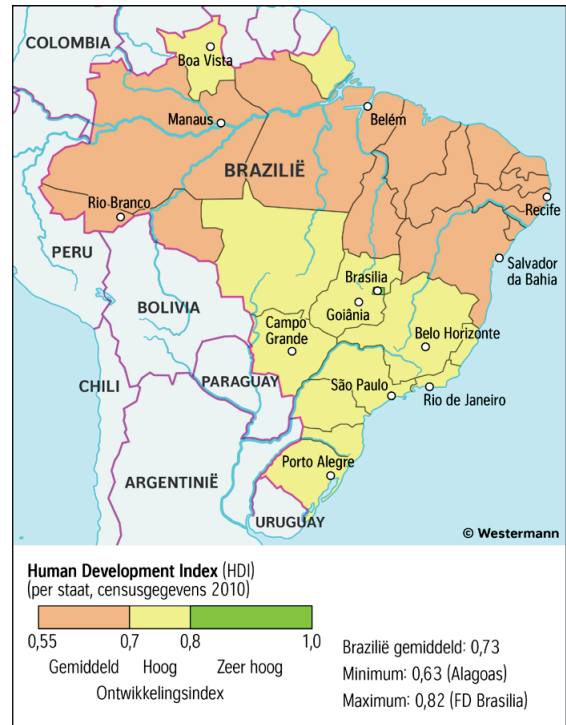
bron 16

Sociaal-economische ongelijkheid



bron 17

Human Development Index (HDI)¹⁾



noot 1 De Human Development Index (VN-welzijnsindex) is een samengestelde indicator waarin levensstandaard, kennis en volksgezondheid worden gecombineerd.

Bronvermelding

Een opsomming van de in dit examen gebruikte bronnen, zoals teksten en afbeeldingen, is te vinden in het bij dit examen behorende correctievoorschrift, dat na afloop van het examen wordt gepubliceerd.